

第一单元测评卷

建议时间:60分钟

满分:60分

完成时间:

得分:

第一部分(选择题 共24分)

一、选择题(本部分共12道试题,每题2分,计24分。每道题只有一个选项符合题意)

1. 城市的发展见证历史的变迁。下列古代城市中,作为当时王朝的都城,见证了公元589年中国重归统一的是 ()

- A. 余杭
- B. 大兴
- C. 涿郡
- D. 江都

2. 古人评论隋朝大运河:“天下转漕,仰此一渠。”这主要是肯定大运河 ()

- A. 促进南北经济交流
- B. 便利人们游玩江南
- C. 是古代世界上最长的运河
- D. 加快了隋朝的灭亡

3. 古人云:“成由勤俭破由奢。”下列哪两位皇帝的统治是最有说服力的例子? ()

- A. 汉文帝、汉景帝
- B. 隋文帝、隋炀帝
- C. 隋炀帝、秦二世
- D. 秦始皇、隋炀帝

4. 某皇帝深知“水能载舟,亦能覆舟”的古训,在治国过程中轻徭薄赋,广纳贤才,虚心纳谏,开创了政治清明、社会稳定、经济发展的盛世局面,史称 ()

- A. “文景之治”
- B. “光武中兴”
- C. “贞观之治”
- D. “开元盛世”

5. 《旧唐书》称武则天:“制公卿之死命,擅王者之威力。”(意为诛杀公卿,独断专权)小明却说:“对人民来说,武则天不算坏皇帝。”小明得出该结论的主要依据是武则天 ()

- A. 开始用分科考试的办法选拔官员
- B. 在位期间出现了“开元盛世”的治世局面
- C. 是中国历史上唯一的女皇帝
- D. 在位期间发展农业生产,推动社会经济进一步发展

6. 图一、图二所示文物可以直接印证唐代 ()



图一 唐舞马衔杯纹银壶 图二 唐三彩女俑

- A. 社会政治状况
- B. 科举选才标准
- C. 思想开放程度
- D. 手工业制作水平

7. 据记载,文成公主入吐蕃时,带去了蔬菜种子、茶叶、丝绸、工艺品以及佛经、医药、历法、科学技术等方面的书籍。种类丰富的书籍折射出唐朝 ()

- A. 对边疆统治加强
- B. 民族交融成为主流
- C. 经济文化的繁荣

D. “开元盛世”成就辉煌

8. 李白的诗飘逸洒脱,而杜甫的诗淳朴厚重。导致二人创作风格不同的主要原因是 ()

- A. 对祖国山河的感触不同
- B. 所受的教育不同
- C. 仕途不同
- D. 所处的社会现实不同

9. 苏轼这样赞扬唐朝一位大书法家:“颜公变法出新意,细筋入骨如秋鹰。”苏轼称赞的这位书法家是 ()

- A. 颜真卿
- B. 欧阳询
- C. 柳公权
- D. 王羲之

10. 如果给下图所示的鉴真塑像做文字注解,应该选择 ()



- A. 西行天竺,求取佛经
- B. 政启开元,治宏贞观
- C. 东渡日本,传授佛经
- D. 主动请缨,反抗侵略

11. 唐朝从“小邑犹藏万家室”到“人烟断绝,千里萧条”的转折点是 ()

- A. 七国之乱
- B. 安史之乱
- C. 黄巢起义
- D. 八王之乱

12. 史书记载:“907年,废哀帝,改国号梁,都于汴(今开封)。”该史书记载的史实与下列哪一人物有关? ()


- A. 朱温
- B. 李林甫
- C. 黄巢
- D. 杨国忠

第二部分(非选择题 共36分)

二、非选择题(共3道试题,计36分)

13. (10分) 阅读材料,回答问题。

材料一



图一



图二

(1)唐朝时期,实行_____ (1分)的对外政策,日本派遣使节到中国,当时称为“_____”。(1分)唐玄宗时,图一人物_____ (1分)东渡日本,是中日友好交往的使者;贞观初年,图二人物_____ (1分)西行天竺取经,是中印文化交流的使者,归国后由他口述,其弟子记录成书的《大唐西域记》是研究中外交流史的珍贵文献。

材料二

从汉族地区来的文成公主,带来了各种粮食,给吐蕃粮库打下了坚实的基础;带来了各种手工艺的工匠,给吐蕃工艺打开了发展的大门;A带来了各种牲畜,使西藏的乳酪酥油从此年年丰收。

图三



图四 曲辕犁示意图



图五 唐三彩骑驼乐舞俑

图六 唐戴帷帽女子骑马雕塑

(2) 根据材料二,概括盛唐气象的表现。(2分)任选材料二中的一个图片进行说明。(2分)

(3) 根据材料一、二,提炼一个主题。(2分)

14. (11分) 创新是一个民族进步的灵魂,是一个国家兴旺发达的不竭动力。中华民族自古以来就是富有创新精神的民族。阅读下列材料,完成探究活动。

【探究一 制度篇】

现在各国的考试制度,差不多都是学英国的。穷流溯源,英国的考试制度,原来还是从我们中国学过去的。

——孙中山

(1) 孙中山所说的中国的“考试制度”是什么?(1分)这种制度在唐朝有何发展?(3分)

(2) 选做题:以下两个小题,请任选一个作答。(如果两个都答,按第①小题计分)

【探究二 工程篇】

“天下转漕,仰此一渠。”

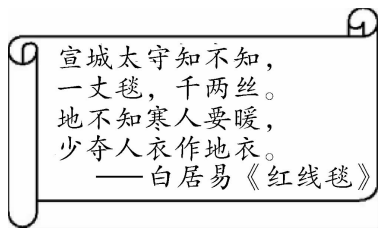
——《宋史》

“北通涿郡之渔商,南运江都之转输,其为利也博哉!”

——皮日休

①材料中的这条“渠”指的是什么?(2分)开凿的目的是什么?(2分)

【探究三 文化篇】



②唐朝诗人白居易的诗歌有什么特点？(2分)指出唐朝艺术成就斐然的原因。(2分)

【探究四 感悟篇】

(3)综合以上内容,在培养自己的创新能力方面,你获得了哪些启示?(3分)

15.(15分)西安大唐不夜城项目是以盛唐文化为背景、以唐风元素为主线的文化项目。阅读下列材料,回答问题。

【主题探究】

主题一 贞观广场



广场上的“贞观之治”群雕非常雄伟,气势恢宏,展示了盛唐无限繁荣;处于水面的载舟覆舟群雕,表示了当时先进的执政理念和民本思想放射出的时代光芒。

(1)探究一:列举唐太宗“先进的执政理念”和“民本思想”各一例。(4分)

主题二 开元广场



广场中心设有“开元盛世”主题雕塑和8根多媒体艺术斗拱景观柱等文化景观,充分展现出盛唐时期繁荣灿烂、歌舞升平的盛大场面。

(2)探究二:列举“开元盛世”时期文学、书法、绘画方面的成就各一例。(4分)

睿智而坚毅,体现了其求学义无反顾的精神风貌。

(3)探究三:请你为玄奘写一段解说词。(4分)

【归纳总结】

唐朝在当时的世界上声名远播四海,世界各国为之仰慕。从那个时候起,海外各国开始把中国人称为“唐人”。

——《中国简史》

(4)探究四:归纳总结大唐盛世出现的原因有哪些?(3分)

主题三 玄奘广场



广场中心的玄奘铜雕总高6米余,重3吨多,玄奘形象伟岸高大,手执锡杖,表情

第二单元测评卷

建议时间:60分钟

满分:60分

完成时间:

得分:

第一部分(选择题 共24分)

一、选择题(本部分共12道试题,每题2分,计24分。每道题只有一个选项符合题意)

1. “万般皆下品,唯有读书高”“做人莫做军,做铁莫做针”。材料主要反映了宋朝 ()

- A. 重文轻武
- B. 等级森严
- C. 商业繁荣
- D. 休养生息

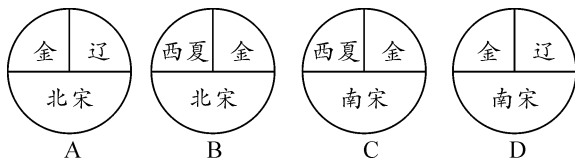
2. 方田均税法是王安石变法的措施之一,即下令全国清丈土地,核实土地所有者,并将土地按土质的好坏分为五等,作为征收田赋的依据。据此可知,方田均税法 ()

- A. 满足了农民的土地要求
- B. 增加了国家赋税收入
- C. 为政府开辟了新的财源
- D. 维护了地主阶级权益

3. 北宋苏颂的诗:“行营到处即为家,一卓穹庐数乘车。千里山川无土著,四时畋猎是生涯。”这首诗描述的是我国北方的 ()

- A. 契丹族
- B. 党项族
- C. 女真族
- D. 蒙古族

4. 下图中,属于“宋金和议”后形成的政权对峙示意图的是 ()



5. 宋高宗曾说:“广南市舶,利入甚厚,提举官宜得人而久任。”材料表明 ()

- A. 五铢钱的统一铸造
- B. 江南地区的开发
- C. 政府鼓励海外贸易
- D. 行省制度的设立

6. 中国历史上有过多次人口迁移。唐朝中后期,人口大量南迁,南方人口规模第一次赶上北方;北宋末年,再一次出现大规模的人口南迁浪潮,南方人口数量大大超过北方。根据以上材料可以推断 ()

- A. 北方已不适合居住
- B. 南方文化水平较先进
- C. 唐宋时期统治者组织移民
- D. 人口南迁促进经济重心转移到南方

7. 《沁园春·雪》中,有“一代天骄,成吉思汗,只识弯弓射大雕”的词句。其中“一代天骄,成吉思汗”指的是哪一位英雄人物? ()

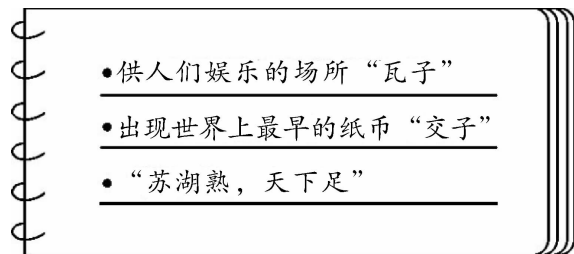
- A. 嬴政
- B. 李世民
- C. 赵匡胤
- D. 铁木真

8. 著名史学家钱穆说:“元朝同宋一

样,把地方分成路、府、州、县,而实际上元代的地方政权不在地方,乃由中央派行中书省管理……所以行中书省真正的定义不是地方政府,而只是流动的中央政府。”这主要说明 ()

- A. 行省制度是错误的政治制度
- B. 行省制度不利于对地方的管理
- C. 行省制度更利于把权力集中到中央
- D. 行省制度促进了民族交融

9. 下图是某同学进行历史学习时的课堂笔记,其内容对应的朝代是 ()



- A. 唐朝
- B. 宋朝
- C. 明朝
- D. 清朝

10. 元朝时期,由我国中央政府首次实施直接行政管辖的地区包括 ()

- ①西藏 ②海南 ③台湾 ④新疆

- A. ①②
- B. ①②③
- C. ①③
- D. ①③④

11. “天子好蹴鞠(宋徽宗喜欢蹴鞠),满城尽高俅(东京城流行踢球)。”这句诗,除了讽刺的意味外,同时也 ()

- A. 说明知识分子受社会普遍尊重
- B. 体现了宋朝乡村生活的丰富多彩
- C. 道出了澶渊之盟发生的直接原因

D. 反映了宋朝市民生活的一个侧面

12. 两宋“物质文明和精神文明所达到的高度,在中国整个封建社会历史时期内是座顶峰”。下列史实不能说明这一观点的是 ()

- A. 城市商品经济繁荣
- B. 重开西北丝绸之路贸易
- C. 偃武兴文,士人地位高
- D. 对外开放,外贸兴盛

第二部分(非选择题 共 36 分)

二、非选择题(共 3 道试题,计 36 分)

13. (10 分) 阅读材料,回答问题。

材料一



图一



图二



图三

(1) 材料一图一人物在 _____ (1 分) 发动兵变,夺取后周政权,改国号为 _____, (1 分) 以开封为东京。12 世纪时,图二人物统一蒙古草原,建立了蒙古政权,他被拥立为大汗,被尊称为 _____, (1 分) 1271 年,图三人物改国号为 _____, (1 分) 次年定都于大都。

材料二 元朝疆域“北逾阴山,西极流

沙,东尽辽左,南越海表”,超越汉朝和唐朝。

——《义务教育教科书 中国历史
七年级下册》

(2)从材料二可以看出,元朝疆域空前辽阔,为了对全国实行有效的统治,元朝创立了什么制度?(1分)请写出元朝在台湾地区和西藏地区设置的管理机构的名称。(2分)

(3)元朝形成了一个新的民族,这个民族的名称是什么?(1分)谈谈你对我国古代民族关系的认识。(2分)

14. (11分)两宋时期是我国封建社会的一个重要时期,是中华民族共同进步、发

展与繁荣的重要时期。阅读下列材料,回答问题。

【政治篇】

材料一 在中国历史上,北宋的灭亡与其说是被金从军事上打败的,还不如说是北宋王朝统治集团无穷无尽的挥霍与奢侈耗尽了社会财富,最后由富宋、强宋变成了弱宋。

——《浅析宋朝衰落的真相》

(1)材料一中“北宋……被金从军事上打败”最终灭亡是在哪一年?(2分)根据材料一中北宋由强变弱的史实,说出你的感悟。(2分)

(2)选做题:以下三个小题,请任选一个作答。(如果三个都答,按第①小题计分)

【经济篇】

材料二 宋朝是中国历史上最开明最光辉的朝代,经济繁荣发展,取得了光辉的成就。

——《中国通史》

①简要概括宋代经济发展的特点。
(写出两点即可)(4分)

【生活篇】

②假设你通过时光隧道来到了南宋都城临安城,请结合所学知识,写出你在南宋都城临安一天的见闻。(写出两点即可)(4分)

【民族篇】

材料三 宋元时期,各民族之间频繁的冲突与战争促进了民族间的交流,使不同民族在斗争中走向交融。各民族政权之间既有战争又有议和,但“和”是主流。

——《中国通史》

③请举例说明材料三中“和”是主流的论断。(4分)

【感悟篇】

(3)请你简要总结一下两宋时期的主要社会特征。(3分)

15. (15 分)宋元科技文化领先世界,是中华艺术的瑰宝。阅读下列材料,回答问题。

【宋词回眸】

材料一 大江东去,浪淘尽,千古风流人物。故垒西边,人道是,三国周郎赤壁。乱石穿空,惊涛拍岸,卷起千堆雪。江山如画,一时多少豪杰。

——《念奴娇·赤壁怀古》

材料二 醉里挑灯看剑,梦回吹角连营。八百里分麾下炙,五十弦翻塞外声。沙场秋点兵。马作的卢飞快,弓如霹雳弦惊。了却君王天下事,赢得生前身后名。可怜白发生!

——《破阵子·为陈同甫赋壮词以寄之》

(1)材料一、材料二的作者分别是谁?(2 分)两位作者的词风有什么相似的地方?(2 分)

【元曲掠影】



图一



图二

(2)图一是我古代著名的戏剧家,他

是谁?(2 分)图二是他的一部经典著作的插图,这部著作的名称是什么?(2 分)

【科技领先】



图三



图四

(3)结合图三思考:我国出现的哪项技术取代了图中的雕版印刷技术?(1 分)图四是何时发明的何物?(2 分)此项发明有何作用?(2 分)

(4)通过学习,谈谈宋元科技文化的历史地位。(2 分)

第三单元测评卷

建议时间:60分钟

满分:60分

完成时间:

得分:

第一部分(选择题 共24分)

一、选择题(本部分共12道试题,每题2分,计24分。每道题只有一个选项符合题意)


1. 做笔记是学习历史的一种有效方法。下表是一位同学的历史笔记,根据内容判断这位皇帝是 ()

序号	加强君权的措施
1	废除行中书省,地方设“三司”
2	废除丞相,权分六部
3	设锦衣卫

- A. 秦始皇 B. 汉武帝
C. 唐太宗 D. 明太祖

2. 右图是明万历二十六年(公元1598年)状元赵秉忠的殿试卷(局部),是目前我国现存唯一的殿试状元卷真迹。该卷肯定涉及的内容是 ()

- A. 经济政策
B. 时事评论
C. “四书”“五经”
D. 诗词歌赋



3. “郑和时代的中国,则是真正承担了一个文明大国的责任:强大却不称霸,播仁爱于友邦,宣诏颁赏,厚往薄来。”从材料中不能解读出的信息是 ()

- A. 郑和下西洋为明王朝带来了可观的

经济利益

B. 明朝国力强盛


C. 郑和下西洋加强了中国同海外各国的友好关系

D. 郑和下西洋传播了和平和友谊

4. 英雄从未走远,精神永远闪耀。在中华民族历史发展的长河中,涌现出一大批可歌可泣的民族英雄。戚继光被称为民族英雄,是因为他 ()

- A. 抗辽 B. 抗金
C. 抗倭 D. 抗清

5. 方寸之间,见证历史。1987年列入世界文化遗产名录,是世界上现存最大、最完整的宫殿建筑群的是 ()




A



B



C

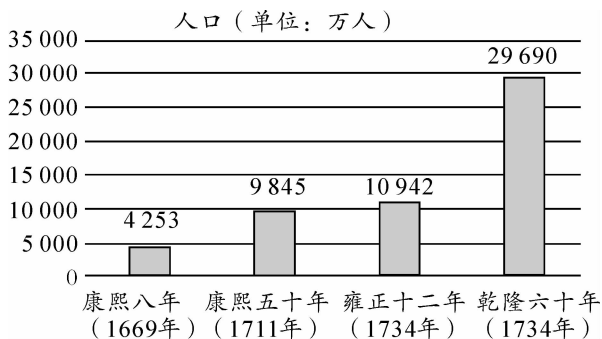


D

6. 明末农民起义提出“均田免赋”的口号,针对的是 ()

- A. 宦官专权
B. 官员贪赃枉法
C. 兼并土地,赋税沉重
D. 皇帝疏于朝政

7. 下图反映的发展趋势是 ()



- A. 生态环境遭到破坏
- B. 经济的持续发展
- C. 统治者重视农业
- D. 君主专制高度强化

8. 清朝前期,直隶宁津(今山东宁津)大柳镇统泰升杂货店兼营的轧花工场,雇用工人一百多人。江宁(今南京)著名的机户李扁担、李东阳等,都各自拥有织机五六百张。广州佛山镇有经营棉织业的工场2 500家,从业人员超过5万,每一工场平均有20人。这充分表明 ()

- A. 清代已经出现较为成熟的手工业工场
- B. 清代新兴资产阶级已经取代地主阶级
- C. 清政府曾暂时放宽对民间设厂的限制
- D. 这种工场有效抵制了西方经济的侵略

9. 某学者曾说:“世宗(雍正帝)的集权是很巧妙的,并不是像以前的枝枝节节,他只设了一个军机处,就把以前内阁和八旗的权力,整个拿来。”符合此评论主旨的是 ()

- A. 军机处的设立极大地提高了行政效率

B. 军机处的设立是为了辅助皇帝处理政事

C. 军机处是清朝常设的中枢机构

D. 军机处的设立是为了强化君主专制

10. 清朝嘉庆元年(1796年)时,国库存银为5 658万两,而到嘉庆十九年时,仅为1 240万两,只相当于乾隆朝国库存银最多时的1/6。这一变化说明 ()

- A. 清朝官场上的贿赂现象严重
- B. 八旗兵军风军纪日益败坏
- C. 嘉庆时已出现财政危机
- D. 土地兼并现象日益严重

11. 下图是清乾隆二十五年(1760年)发给中国商人的海外渡航证明书。政府颁发该证明书的直接动机是 ()



- A. 保护国人的海外活动
- B. 便于对外商统一管理
- C. 巩固清朝的专制统治
- D. 限制国人的海外活动

12. 对下图所示文学巨著的介绍不正确的是 ()



- A. 明代曹雪芹创作的文学巨著

- B. 思想深刻,艺术精湛
C. 把我国古典小说的创作推向了高峰
D. 揭示了封建社会走向衰亡的历史命运

第二部分(非选择题 共36分)

二、非选择题(共3道试题,计36分)

13. (10分)阅读材料,回答问题。

材料一



图一



图二

(1) 材料一图一人物_____ (1分)
建立明朝,定都应天府。为了巩固统治,他在政治上采取一系列措施,从地方到中央全面改革官制,以强化皇权。在地方,他将原来行中书省的权力一分为三,设立“_____” (1分)。在中央,他废除了_____ (1分)和中书省,权分六部。图二是明朝_____ (机构名称) (1分)的印信。

材料二



八股之害等于焚书,而败坏人材有甚于咸阳之郊……

——顾炎武

- (2) 材料二图片反映了什么制度? (1分) 这种制度到明朝有了什么变化? (1分) 你如何评价顾炎武所述内容? (2分)

(3) 结合以上材料及所学知识,概述明朝君权的发展趋势。 (2分)

14. (11分) 清朝前期对奠定今天祖国疆域基础、维护国家统一作出了重大贡献。结合所学知识,完成下列探究。

【史料中的建制】

史料 第二年,康熙帝下诏设台湾府,下辖三县,隶属福建省。蒋毓英担任第一任知府。蒋毓英在任内颇有政绩,使台湾的经济、文化得到发展,其政治地位更加重要。

——《大清王朝》

(1) 根据史料说明康熙帝对台湾的治理措施及所起到的作用。 (4分)

(2) 选做题: 以下两个小题,请任选一个作答。(如果两个都答,按第①小题计分)

【金印中的管辖】



图一 达赖金印



图二 班禅金印

①这两枚金印反映了清朝与哪个民族之间的关系？(1分)其反映的主要历史事件分别是什么？(1分)为了更好地管辖这一民族地区，清政府还采取了什么措施？(2分)

【图片中的巩固】



图三 清朝绘画《平定准噶尔图卷》(局部)



图四 新疆伊犁将军府

②图三反映的是哪一历史事件？(2分)
图四中“伊犁将军”的职责是什么？(2分)

【探究中的感悟】

(3)上述探究反映的共同主题是什么？(3分)

15. (15分)中国的崛起之路，曲折而又艰辛，历史上的成功经验，值得我们加以借鉴。阅读下列材料，回答问题。

材料一 历史上，中国至少曾有三三次被公认为是地区最强大的国家。第一次是从公元前3世纪到公元3世纪……当时汉朝周边的一些国家开始进口汉朝的商品和技术——主要是丝绸、纸张、陶瓷……7世纪唐朝的建立不仅宣布了中国第二次崛起，而且巩固了中国在南方的力量，并通过陆路向四周扩展影响力。这种影响力还传播到隔海相望的日本。……在这一时期，中国不仅高度开放而且迎来了一个贸易和工业不断增长的时代。……1368年，明朝建立了。中国由此实现了第三次崛起。虽然这次与前两次相比有些逊色，中国强大的力量仍给这一地区留下了很深的印象。

——王赓武《中国迎来第四次崛起》

材料二 郑和船队所到之处，以礼待人，尊重当地风俗；公平贸易，并将海外的先进文化与科技带回国内，因而为中国赢得了信誉和朋友。……郑和下西洋不以贸易获利为目的，丰厚的馈赠造成明朝财政巨大的经济负担，随着国力衰退，航海的壮

举悄然结束。

——摘编自桂国强主编《民生问题—
21 世纪中国纪实文学大系—2005 卷》

(1) 根据材料一、二,概括指出中国古代三次崛起体现出的共同特征。(2 分)简析第三次崛起与前两次相比有些逊色的主要原因。(3 分)

材料三 明清时期,一部分仕途无望的知识分子投身于文学创作和科技研究,如吴承恩、吴敬梓等成了作家,宋应星成了科学家。

——《中国通史》

(2) 材料三中宋应星的哪一巨著被称为“中国 17 世纪的工艺百科全书”? (1 分)

(3) 写出材料三中吴承恩的代表作。(1 分)

材料四 清朝统一台湾后,严厉禁止国内商民出海,减少通商口岸,颁布限制外商与中国商民的条例与章程……

——《中国经济史》

(4) 根据材料四分析,清朝政府实行怎样的外交政策? (1 分)简析清朝政府实行这一政策的原因及影响。(4 分)

(5) 联系当今实际,你认为如何才能实现中国的第四次崛起? (3 分)